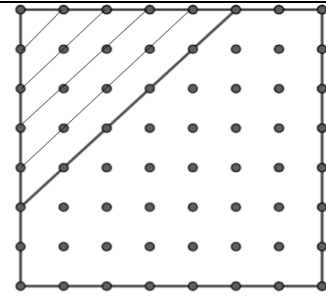


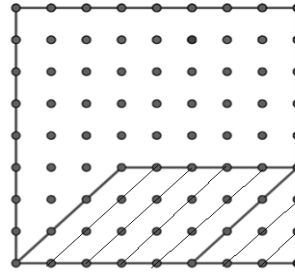
Tabel 1. Soal Pre-test dan post-test

Masalah Sumber 1



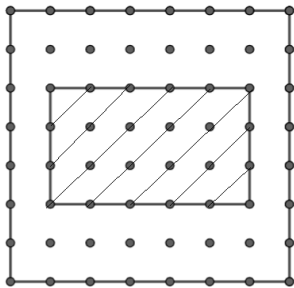
Seorang peternak memiliki sepetak tanah yang memiliki luas daerah berbeda. Peternak ini ingin membangun peternakan dengan luas yang berbeda seperti gambar diatas. Hitunglah luas segitiga pada gambar di atas!

Masalah Target 1



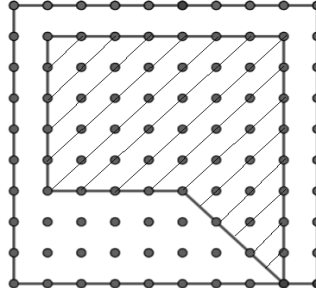
Seorang peternak memiliki sepetak tanah yang memiliki luas daerah berbeda. Peternak ini ingin membangun peternakan dengan luas yang berbeda seperti gambar diatas. Hitunglah seluruh luas daerah gambar yang diarsir tersebut!

Masalah Sumber 2



Seorang siswa memiliki selembar kertas karton, dan siswa ingin memotong menjadi beberapa bentuk bagian. Hitunglah luas persegi panjang pada potongan kertas karton di atas!

Masalah Target 2



Seorang siswa memiliki selembar kertas karton, dan siswa ingin memotong menjadi beberapa bentuk bagian. Hitunglah seluruh luas daerah yang diarsir pada potongan kertas karton di atas!